

1 Observa esta charca. En ella viven ranas, que son el principal alimento de las cigüeñas.



a) Las ranas se alimentan de insectos. Si aumenta el número de insectos, ¿qué ocurrirá con el número de ranas?

.....

.....

.....

b) ¿Afectará la fumigación a la población de cigüeñas si a estas no les afecta el insecticida?

.....

.....

.....

.....

2 Completa la tabla con los siguientes términos.

- Declaración de espacios protegidos
- Incendios
- Vertederos ilegales
- Reutilización y reciclaje de materiales
- Repoblación
- Tala indiscriminada

Acciones humanas beneficiosas	Acciones humanas perjudiciales

3 Explica por qué el aumento de la población humana causa desequilibrio en los ecosistemas.


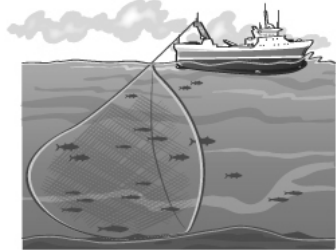

.....

.....

.....

.....

4 Explica por qué estas actividades humanas pueden alterar el equilibrio ecológico.



.....

.....

.....

.....

.....

5 Hace unos años era normal ver ratas saliendo de las alcantarillas. Al usar cubos de basura con tapa hermética estos animales han dejado de verse. ¿A qué crees que se debe? Elige la respuesta correcta y razónala.

- a) A que las ratas se exterminaron con raticidas.
- b) A que, al no poder acceder a la comida arrojada a la basura, ahora hay menos.
- c) A que hay muchos gatos abandonados y se las comen.

.....

.....

.....

.....

.....