

Nombre: Fecha: Curso:

1 Completa las siguientes oraciones con las palabras que aparecen a continuación.

empresas
servicios
bienes
ahorro
familias

- a) Las empresas usan recursos y trabajo para producir y
- b) Las perciben unos ingresos por su trabajo y lo usan para consumir o también para generar un
- c) El Estado establece normas que regulan el comportamiento de las y el consumo de las familias.

2 Pon un nombre a cada uno de los siguientes factores de producción y completa la información.

Son los elementos que se obtienen de la




Algunos ejemplos son:



Es el esfuerzo físico e intelectual que realizan los seres humanos para producir


Las personas que obtienen recursos naturales trabajan en el sector de la economía.



Representa los bienes en un territorio.

Algunos ejemplos son:

3 Observa la ilustración. Escribe en los huecos la actividad del sector primario que se está realizando en cada caso.



4 Define con tus propias palabras qué es el sector primario.

.....

.....

.....

5 Escribe seis profesiones que pertenezcan a este sector.

1.

2.

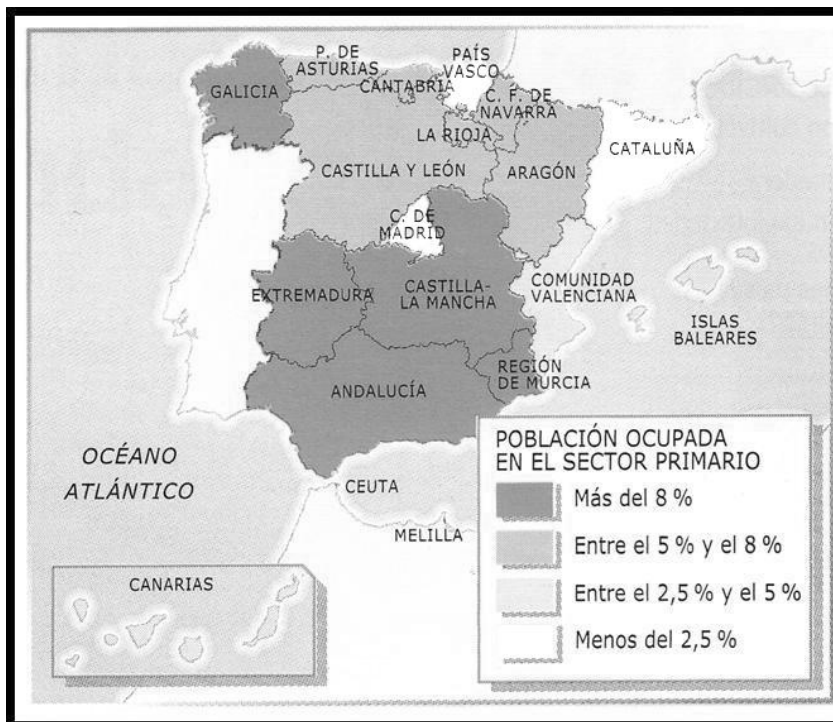
3.

4.

5.

6.

1 Observa el siguiente mapa sobre el sector primario en España y contesta a las preguntas.



a) ¿En qué comunidades autónomas hay más población trabajando en el sector primario?

.....

b) ¿Qué comunidad autónoma ocupa un tercer lugar en población empleada en el sector primario?

.....

c) ¿En qué comunidades hay menos población trabajando en este sector?

.....

d) Explica por qué crees que en estas CC. AA. hay tan pocos trabajadores en este sector.

.....

e) Por último, indica la diferencia de porcentaje que hay entre la comunidad autónoma donde vives y las comunidades autónomas con mayor porcentaje.

.....

Nombre: Fecha: Curso:

1 Completa las siguientes oraciones con las palabras que aparecen a continuación.

empresas
servicios
bienes
ahorro
familias

- a) Las empresas usan recursos y trabajo para producir y
- b) Las perciben unos ingresos por su trabajo y lo usan para consumir o también para generar un
- c) El Estado establece normas que regulan el comportamiento de las y el consumo de las familias.

2 Pon un nombre a cada uno de los siguientes factores de producción y completa la información.

Son los elementos que se obtienen de la



Algunos ejemplos son:


.....

.....



Es el esfuerzo físico e intelectual que realizan los seres humanos para producir

Las personas que obtienen recursos naturales trabajan en el sector de la economía.




Representa los bienes en un territorio.

Algunos ejemplos son:

.....

Nombre: Fecha: Curso:

3 Observa la ilustración. Escribe en los huecos la actividad del sector primario que se está realizando en cada caso.



4 Define con tus propias palabras qué es el sector primario.

.....

.....

.....

5 Escribe seis profesiones que pertenezcan a este sector.

1.

2.

3.

4.

5.

6.